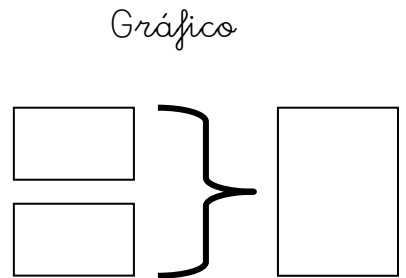


.....
.....
.....

Datos
129 niños
317 niñas



Operación

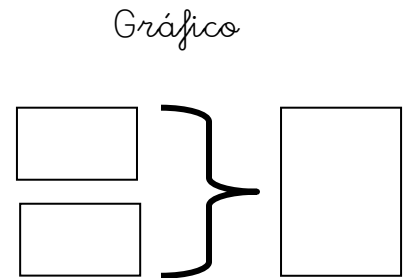
$$\begin{array}{r} 129 \\ +317 \\ \hline \end{array}$$

Resultado:
446 en total

.....

.....
.....
.....

Datos
146 gallinas
58 gallos



Operación

$$\begin{array}{r} 146 \\ +58 \\ \hline \end{array}$$

Resultado:
204 animales

.....

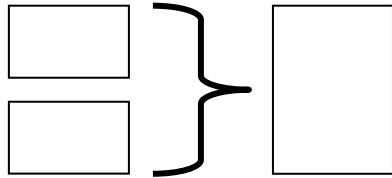
Nombre: Fecha:

.....
.....
.....

Datos

752 canicas
168 canicas

Gráfico



Operación

$$\begin{array}{r} 752 \\ +168 \\ \hline \end{array}$$

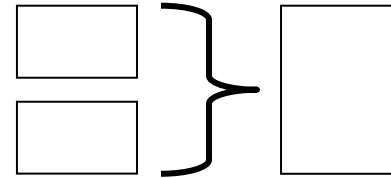
Resultado:
920 canicas

.....
.....
.....

Datos

431 cromos
105 cromos

Gráfico



Operación

$$\begin{array}{r} 431 \\ +105 \\ \hline \end{array}$$

Resultado:
536 cromos

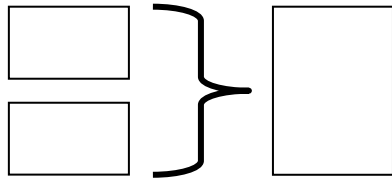
Nombre: Fecha:

.....
.....
.....

Datos

235 Kg patatas
59 Kg patatas

Gráfico



Operación

$$\begin{array}{r} 235 \\ -59 \\ \hline \end{array}$$

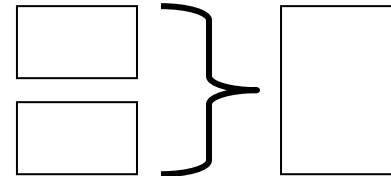
Resultado:
176 Kg patatas

.....
.....
.....

Datos

875 libros
129 libros

Gráfico



Operación

$$\begin{array}{r} 875 \\ -129 \\ \hline \end{array}$$

Resultado:
746 libros

Nombre: Fecha:

En el garaje hay 65 coches aparcados. Por la noche entran 27 más. ¿Cuántos coches hay en total?

Datos

.....
.....

Gráfico

	¿?

Operación

.....
.....
.....
.....
.....
.....
.....
.....
.....
.....

Resultado:

.....

Tengo 39 euros en la hucha. Mi abuela me dio 35 euros. ¿Cuántos tengo en total?

Datos

.....
.....

Gráfico

	¿?

Operación

.....
.....
.....
.....
.....
.....
.....
.....
.....
.....

Resultado:

.....

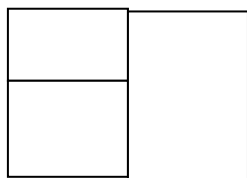
Nombre: Fecha:

En la ciudad hay 29 semáforos. Si colocan 63 semáforos. ¿Cuántos hay en total?

Datos

.....
.....

Gráfico



Operación

.....
.....
.....
.....
.....
.....
.....
.....
.....
.....

Resultado:

.....

En el restaurante hay 68 platos. Si compran 29 platos. ¿Cuántos hay en total?

Datos

.....
.....

Gráfico



Operación

.....
.....
.....
.....
.....
.....
.....
.....
.....
.....

Resultado:

.....

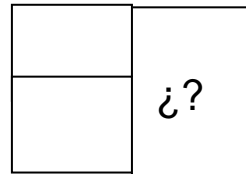
Nombre: Fecha:

Hemos preparado 14 bocadillos de queso y 58 de salchichón. ¿Cuántos bocadillos hemos preparado en total?

Datos

.....
.....

Gráfico



Operación

.....
.....
.....
.....
.....
.....
.....
.....
.....
.....

Resultado:

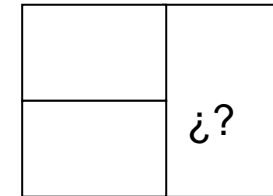
.....

Un pastor tiene un rebaño de 59 ovejas. Su hermano tiene otro rebaño de 96 ovejas. ¿Cuántas ovejas tienen entre los dos?

Datos

.....
.....

Gráfico



Operación

.....
.....
.....
.....
.....
.....
.....
.....
.....
.....

Resultado:

.....

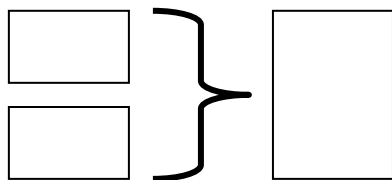
Nombre: Fecha:

Marta tiene 256 cromos y le regalan 127 más. ¿Cuántos cromos tiene ahora Marta?

Datos

.....
.....

Gráfico



Operación

.....
.....
.....
.....
.....
.....
.....
.....
.....
.....

Resultado:

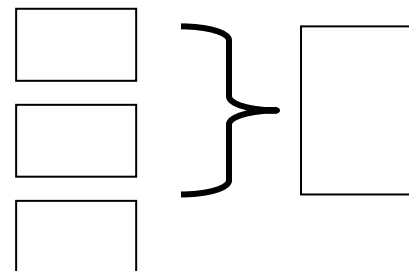
.....

En una colmena hay una centena, nueve decenas y cinco unidades de abejas. ¿Cuántas abejas hay en total?

Datos

.....
.....
.....

Gráfico



Operación

.....
.....
.....
.....
.....
.....
.....
.....
.....
.....

Resultado:

.....

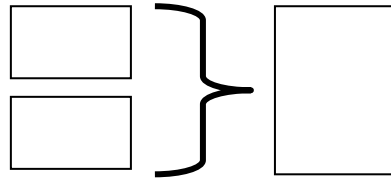
Nombre: Fecha:

Los alumnos de tercero y cuarto de Primaria fueron al zoo. Los de tercero vieron 138 mamíferos y los de cuarto vieron 275 aves. ¿Cuántos animales vieron en total?

Datos

.....
.....

Gráfico



Operación

.....
.....
.....
.....
.....
.....
.....
.....

Resultado:

.....

Nombre:

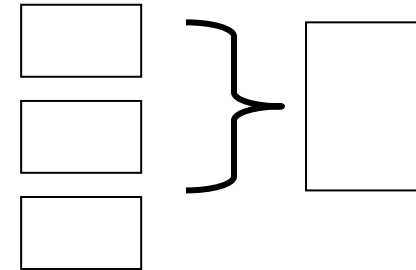
Fecha:

En un jardín han plantado 345 tulipanes azules y 187 rojos. ¿Cuántos tulipanes han plantado en total?

Datos

.....
.....
.....

Gráfico



Operación

.....
.....
.....
.....
.....
.....
.....
.....


Resultado:

Los alumnos de tercero y cuarto de Primaria tienen en la biblioteca 345 libros de misterio y 196 libros de aventuras. ¿Cuántos libros tienen en total?

Datos

.....
.....

Gráfico



Operación

.....
.....
.....
.....
.....
.....
.....
.....

Resultado:

.....


Nombre:

En un jardín han plantado 475 olmos y 397 chopos. ¿Cuántos árboles han plantado en total?

Datos

.....
.....
.....

Gráfico



Operación

.....
.....
.....
.....
.....
.....
.....
.....

Resultado:

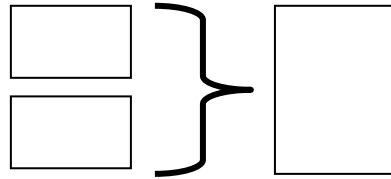
Fecha:

En una hamburguesería han preparado 48 hamburguesas de carne y 64 hamburguesas de pollo. ¿Cuántas hamburguesas han preparado en total?

Datos

.....
.....

Gráfico



Operación

.....
.....
.....
.....
.....
.....
.....
.....
.....
.....

Resultado:

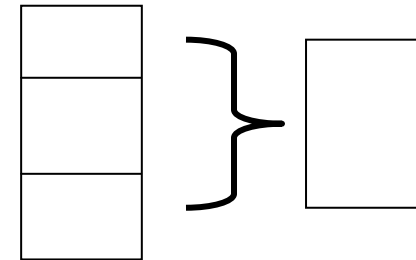
.....

Tengo en la hucha ahorrados 70€ Me han dado de propina 43 € mis padres y 54€ mis abuelos. ¿Cuántos Euros tengo en total?

Datos

.....
.....
.....

Gráfico



Operación

.....
.....
.....
.....
.....
.....
.....
.....
.....
.....

Resultado:


.....

Nombre: Fecha:

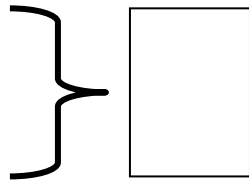
Me quiero comprar un balón que me cuesta 25 céntimos, un cuento que me cuesta 39 céntimos y un bolígrafo que me cuesta 36 céntimos. ¿Cuánto dinero me voy a gastar en total?

Datos

.....



Gráfico



Operación:


Resultado:

.....

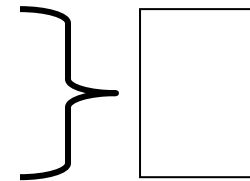
Tengo en la hucha ahorrados 5€ Mi abuelo me da 4 € y mi tía 11 €
 ¿Cuántos € tengo en total ahorrados?

Datos

.....



Gráfico



Operación

Resultado:

.....

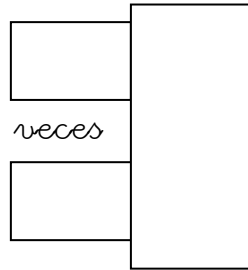
Nombre: Fecha:

En una estantería tengo 6 cajas de zapatos. Si en cada caja hay 2 zapatos, ¿cuántos zapatos tengo en total?

Datos

.....
.....

Gráfico



Operación

.....
.....
.....
.....
.....
.....
.....
.....
.....
.....

Resultado:

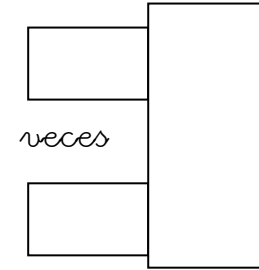
.....

En mi habitación tengo 2 estanterías. Si en cada estantería tengo 9 libros. ¿Cuántos libros tengo en total?

Datos

.....
.....

Gráfico



Operación

.....
.....
.....
.....
.....
.....
.....
.....
.....
.....

Resultado

.....

Nombre: Fecha:

En el estanque del parque hay 28 patos y 35 ocas. ¿Cuántas aves hay en total?

Datos

.....
.....

Gráfico

Operación

.....

Resultado:

.....

Pedro vendió 4 decenas de barras de pan y 5 unidades por la mañana. Por la tarde vendió 2 decenas y 6 unidades. ¿Cuántas barras vendió en total?

Datos

.....
.....

Gráfico

Operación

.....

Resultado

.....

Nombre: Fecha:

En una librería hay 450 libros de “aventuras” y 450 libros de “misterio”.
¿Cuántos libros hay en total?

Datos

.....
.....

Gráfico

Operación

.....

Resultado:

.....

El frutero de mi barrio tiene 3 cajas de naranjas. En cada caja tiene 124 naranjas. ¿Cuántas naranjas puede vender en total?

Datos

.....
.....
.....

Gráfico

Operación

.....

Resultado

.....


Nombre: Fecha:

En una pastelería hay 125 tartas de chocolate y 374 tartas de nata y crema.
¿Cuántas tartas hay en total?

Datos

.....
.....

Gráfico



Operación

.....
.....
.....
.....
.....
.....
.....
.....
.....
.....

Resultado:


.....

En la zapateria de María tienen una estantería con 27 cajas de zapatos de caballero y otra estantería con 27 cajas de zapatos de señora y 27 cajas de zapatos de niño. ¿Cuántas cajas tienen en total?

Datos

.....
.....
.....

Gráfico



Operación

.....
.....
.....
.....
.....
.....
.....
.....
.....
.....

Resultado

.....


Nombre: Fecha:

En las fiestas de mi barrio van a adornar 5 calles con farolillos de colores. Si en cada calle ponen 9 farolillos. ¿Cuántos tienen que comprar en total?

Datos

.....

Gráfico



Operación

.....

Resultado:

.....

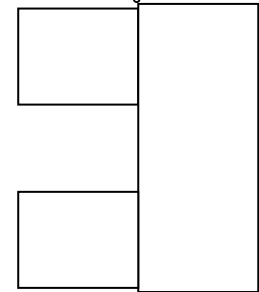
Nombre:

Tengo preparadas 3 bandejas de refrescos para mis amigos. En cada bandeja he puesto 13 vasos. ¿Cuántos vasos he preparado en total?

Datos

.....

Gráfico



Operación

.....

Resultado

.....

Fecha:

En la cafetería de mi tío Pedro hemos preparado 25 bandejas con 6 vasos de leche en cada bandeja.

¿Cuántos vasos hemos preparado en total?

Datos

.....
.....

Gráfico

Operación

.....

Resultado:

.....

En una huerta han plantado 234 hileras de naranjos. En cada hilera hay 8 naranjos. ¿Cuántos naranjos hay en total plantados?

Datos

.....
.....

Gráfico

Operación

.....

Resultado

.....

Nombre: Fecha:

En la terraza de mi casa hay 45 macetas de flores. En cada maceta han crecido 8 flores...

¿Cuántas flores tengo en total?

Datos

.....
.....

Gráfico

Operación

.....

Resultado:

.....

Luisa tiene 187 paquetes de cromos. En cada paquete hay 7 cromos. ¿Cuántos cromos tiene Luisa en total?

Datos

.....
.....

Gráfico

Operación

.....

Resultado

.....

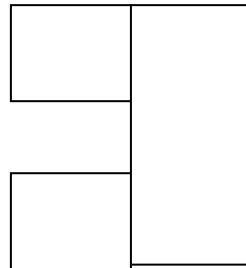
Nombre: Fecha:

Juan tiene 96 bolsas de canicas. En cada bolsa tiene 9 canicas. ¿Cuántas canicas tiene en total?

Datos

.....
.....

Gráfico



Operación

.....
.....
.....
.....
.....
.....
.....
.....
.....
.....

Resultado:

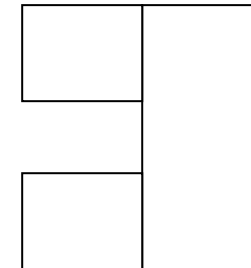
.....

Antonio tiene 123 bolsas. En cada bolsa va a meter 7 caramelos. ¿Cuántos caramelos tiene en total?

Datos

.....
.....

Gráfico



Operación

.....
.....
.....
.....
.....
.....
.....
.....
.....
.....

Resultado:

.....

Nombre: Fecha:

En la frutería tienen almacenados 123 sacos de patatas. Cada saco tiene 5 kilos de patatas. ¿Cuántos kilos de patatas tienen almacenados en total?

Datos

.....
.....

Gráfico

Operación

.....

Resultado:

.....

El pastelero ha preparado para el domingo 347 pasteles de nata y chocolate. En cada pastel ha puesto 4 quindas. ¿Cuántas quindas ha puesto en total?

Datos

.....
.....

Gráfico

Operación

.....

Resultado:

.....

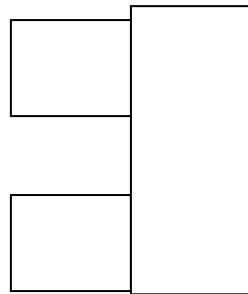
Nombre: Fecha:

María tiene 94 paquetes de almendras. En cada paquete hay 32 almendras. ¿Cuántas almendras tiene María en total?

Datos

.....
.....

Gráfico



Operación

.....

Resultado:

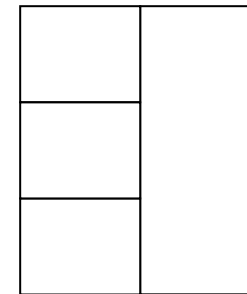
.....

Antonio tenía 27 pinturas de colores. Su hermana le regaló un estuche con 36 pinturas y su prima le compró una caja de 78 pinturas. ¿Cuántas pinturas tiene Antonio en total?

Datos

.....
.....
.....

Gráfico



Operación

.....

Resultado:

.....

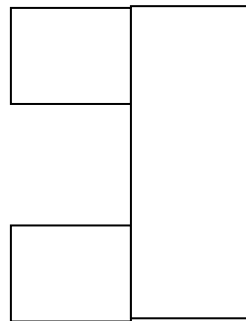
Nombre: Fecha:

En el supermercado tienen 124 cajas de leche. En cada caja de leche hay 24 botellas. ¿Cuántas botellas tienen en total?

Datos

.....
.....

Gráfico



Operación

Resultado:

.....

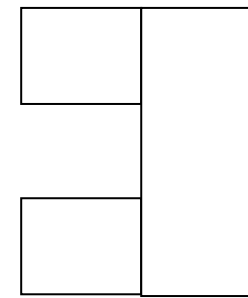
Nombre: Fecha:

En el jardín de mi abuela hay plantados 124 rosales. Cada rosal ha dado 34 rosas. ¿Cuántas rosas tiene mi abuela en su jardín?

Datos

.....
.....

Gráfico



Operación

Resultado

.....

En la fiesta de mi pueblo hay un vendedor con 456 globos y una vendedora con 327 globos. ¿Cuántos globos pueden vender entre los dos?

Datos

.....
.....

Gráfico

Operación

.....

Resultado:

.....

Para ir a la feria el autobús me cuesta 95 céntimos el viaje. Si quiero subir 9 veces, ¿cuánto dinero me gastaré?

Datos

.....
.....

Gráfico

Operación

.....

Resultado:

.....

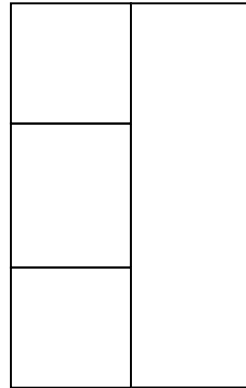
Nombre: Fecha:

Carlos tiene en su acuario 49 peces de colores. Su prima le regala 21 y su mejor amigo 36. ¿Cuántos peces tiene Carlos ahora en el acuario?

Datos

.....
.....

Gráfico



Operación

.....

Resultado:

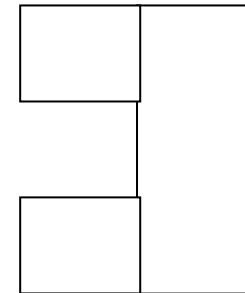
.....

Juan tiene 123 cajas de dulces. Si en cada caja hay 54 dulces, ¿Cuántos dulces puede repartir Juan entre sus amigos?

Datos

.....
.....

Gráfico



Operación

.....

Resultado:

.....


Nombre: Fecha:

En un árbol hay 321 pajaritos. Si llegan 49 pajaritos, ¿cuántos pajaritos tiene ahora el árbol?

Datos

.....
.....

Gráfico



Operación

.....

Resultado:

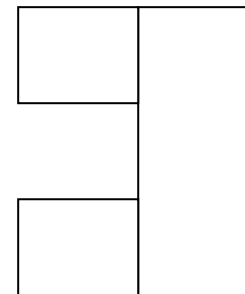
.....

En una huevera hay 216 huevos. En otra huevera hay el triple que en la primera. ¿Cuántos huevos hay en la segunda huevera?

Datos

.....
.....

Gráfico



Operación

.....

Resultado:

.....

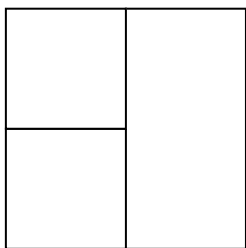
Nombre: Fecha:

.....
.....
.....

Datos

129 cuentos
317 comics

Gráfico



Operación

Resultado

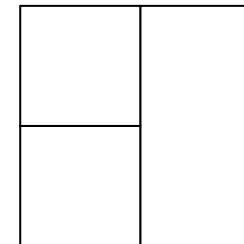
.....
.....

.....
.....
.....

Datos

135 patos
245 ovas

Gráfico



Operación

Resultado

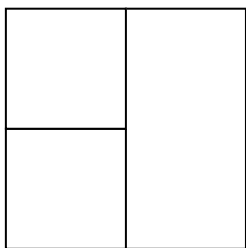
.....
.....

Nombre: Fecha:

.....
.....
.....

Datos
98 galletas
154 pastas

Gráfico



Operación

$$\begin{array}{r} + 98 \\ 154 \\ \hline \end{array}$$

Resultado

.....
Dulces en total

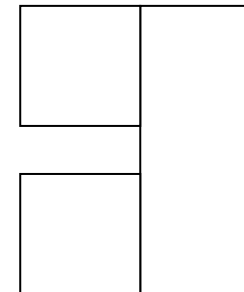
Nombre: Fecha:

.....
.....
.....

Datos

135 gallinas
Cada gallina 2 patas

Gráfico



Operación

Resultado

.....
Patas en total

María tiene en su armario 12 lazos de colores. Su prima le regala 34 y su mejor amiga 49. ¿Cuántos lazos tiene María ahora en el su armario?

Datos

.....

Gráfico

Operación

Resultado:

.....

Ana tiene 123 sobres de cromos. Si en cada sobre hay 27 cromos. ¿Cuántos cromos tiene Ana en total?

Datos

.....

Gráfico

Operación

Resultado:

.....

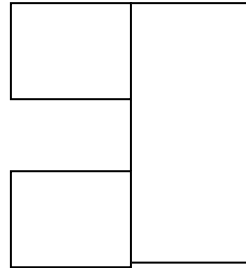
Nombre: Fecha:

Juan tiene 96 bolsas de canicas. En cada bolsa tiene 9 canicas.. ¿Cuántas canicas tiene en total?

Datos

.....
.....

Gráfico



Operación

.....
.....
.....
.....
.....
.....
.....
.....
.....
.....

Resultado:

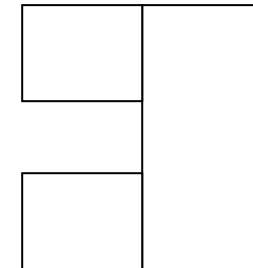
.....
.....

Antonio tiene 123 bolsas. En cada bolsa va a meter 7 caramelos. ¿cuántos caramelos tiene en total?

Datos

.....
.....

Gráfico



Operación

.....
.....
.....
.....
.....
.....
.....
.....
.....
.....

Resultado:

.....
.....

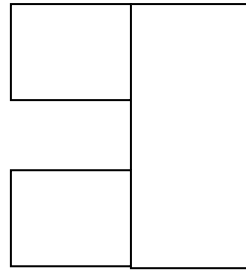
Nombre: Fecha:

En la frutería tienen almacenados 123 sacos de patatas. Cada saco tiene 5 kilos de patatas. ¿Cuántos kilos de patatas tienen almacenados en total?

Datos

.....
.....

Gráfico



Operación

.....
.....
.....
.....
.....
.....
.....
.....

Resultado:

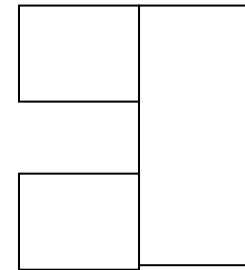
.....

El pastelero ha preparado Juan tiene 96 bolsas de canicas. . En cada bolsa tiene 9 canicas... ¿Cuántas canicas tiene en total?

Datos

.....
.....

Gráfico



Operación

.....
.....
.....
.....
.....
.....
.....
.....

Resultado:

.....
.....


Nombre: Fecha:

Carmen tiene en su quiosco 264 periódicos. Esta mañana ha vendido 62 periódicos. ¿Cuántos periódicos le quedan?

Datos

.....
.....

Gráfico



Operación

.....
.....
.....
.....
.....
.....
.....
.....
.....
.....

Resultado:


.....

En un rebaño hay 187 ovejas, 122 son blancas y el resto son negras. ¿Cuántas ovejas negras hay en el rebaño?

Datos

.....
.....

Gráfico



Operación

.....
.....
.....
.....
.....
.....
.....
.....
.....
.....

Resultado:

.....


Nombre: Fecha:

En una carrera participan 967 atletas. Antes de llegar a la meta, abandonan 139 atletas. ¿Cuántos atletas llegan a la meta?

Datos

.....
.....

Gráfico



Operación

.....

Resultado:

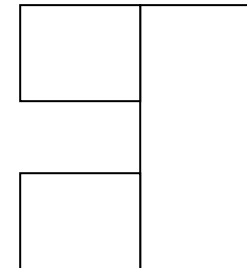
.....

Samuel ha recibido 4 paquetes con 6 libros cada paquete. ¿Cuántos libros ha recibido en total?

Datos

.....
.....

Gráfico



Operación

.....

Resultado:

.....

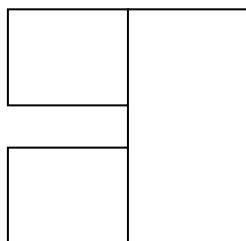
Nombre: Fecha:

En el colegio de Nuria hay 9 clases y cada clase ha preparado 7 poesías para el periódico del colegio. ¿Cuántas poesías han preparado en total?

Datos

.....
.....

Gráfico



Operación

.....
.....
.....
.....
.....
.....
.....
.....
.....
.....

Resultado:

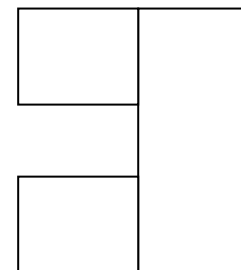
.....

Pepe compra 36 cajas de quesitos. En cada caja hay 8 quesitos. ¿Cuántos quesitos ha comprado en total?

Datos

.....
.....

Gráfico



Operación

.....
.....
.....
.....
.....
.....
.....
.....
.....
.....

Resultado:

.....


Nombre: Fecha:

Juan compra tres cajas de manzanas. Una caja tiene 41 manzanas, otra 22 y la tercera 35. ¿Cuántas manzanas compra en total?

Datos

.....
.....
.....

Gráfico



Operación

.....
.....
.....
.....
.....
.....
.....
.....
.....
.....

Resultado:

.....

Carlos tiene 45 lápices de colores y Pepe compra 36. ¿Cuántos lápices tienen entre los dos?

Datos

.....
.....

Gráfico



Operación

.....
.....
.....
.....
.....
.....
.....
.....
.....
.....

Resultado:

.....

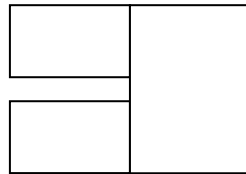
Nombre: Fecha:

.....
.....
.....

Datos

578 caramelos
264 gominolas

Gráfico



Operación

.....
.....
.....
.....
.....

Resultado:
842 golosinas
en total

.....

.....
.....
.....

Datos

574 caballos
157 yeguas

Gráfico



Operación

.....
.....
.....
.....
.....

Resultado:
731 animales en
los establos

.....

Nombre: Fecha:

Compré un cuaderno por 158 céntimos de Euro, una caja de rotuladores por 235 y un sacapuntas por 49 céntimos de Euro. ¿Cuánto dinero me he gastado?

Datos

.....
.....
.....

Gráfico

Operación

.....
.....
.....
.....
.....
.....
.....
.....
.....
.....

Resultado:

.....

En el balcón de mi casa hay 28 macetas de flores. Cada maceta tiene 6 ramos. ¿Cuántas flores o ramos tengo en total?

Datos

.....
.....

Gráfico

Operación

.....
.....
.....
.....
.....
.....
.....
.....
.....
.....

Resultado:

.....


Nombre: Fecha:

En la granja de mi tío han ordeñado 642 litros de leche. Mi tía separa 258 litros para hacer mantequilla. ¿Cuántos litros de leche quedan para poder vender?

Datos

.....
.....
.....

Gráfico



Operación

.....

Resultado:

.....

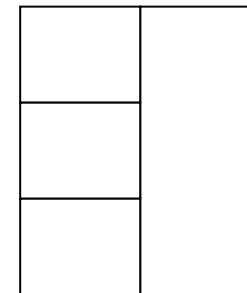
Nombre: Fecha:

En el jardín de mi casa van a instalar una valla de 215cm por un lado, 273 cm por otro lado y 345 cm por otro lado. ¿Cuántos cm de alambre tienen que comprar para hacer la valla.?

Datos

.....
.....

Gráfico



Operación

.....

Resultado:

.....

Carlos, Luis y Marta están jugando a los dardos. Carlos ha marcado 42 puntos. Luis 60 y Marta 31. ¿Cuántos puntos han conseguido entre los tres?

Datos

.....
.....
.....

Gráfico

Operación

.....
.....
.....
.....
.....
.....
.....
.....
.....
.....
.....
.....
.....
.....
.....
.....
.....
.....
.....
.....
.....
.....

Resultado:

.....

Daniel tiene 132 Euros y compra un libro de aventuras que le cuesta 45 Euros. ¿Cuánto dinero le queda?

Datos

.....
.....

Gráfico

Operación

.....
.....
.....
.....
.....
.....
.....
.....
.....
.....
.....
.....
.....
.....
.....
.....
.....
.....
.....
.....
.....
.....

Resultado:

.....

Nombre: Fecha:

Marcos, Elena, Pilar, Antonio, Ines y Susana han anotado los helados que han comido durante una semana. Observa el gráfico y contesta.

¿Quién ha comido más helados?

.....

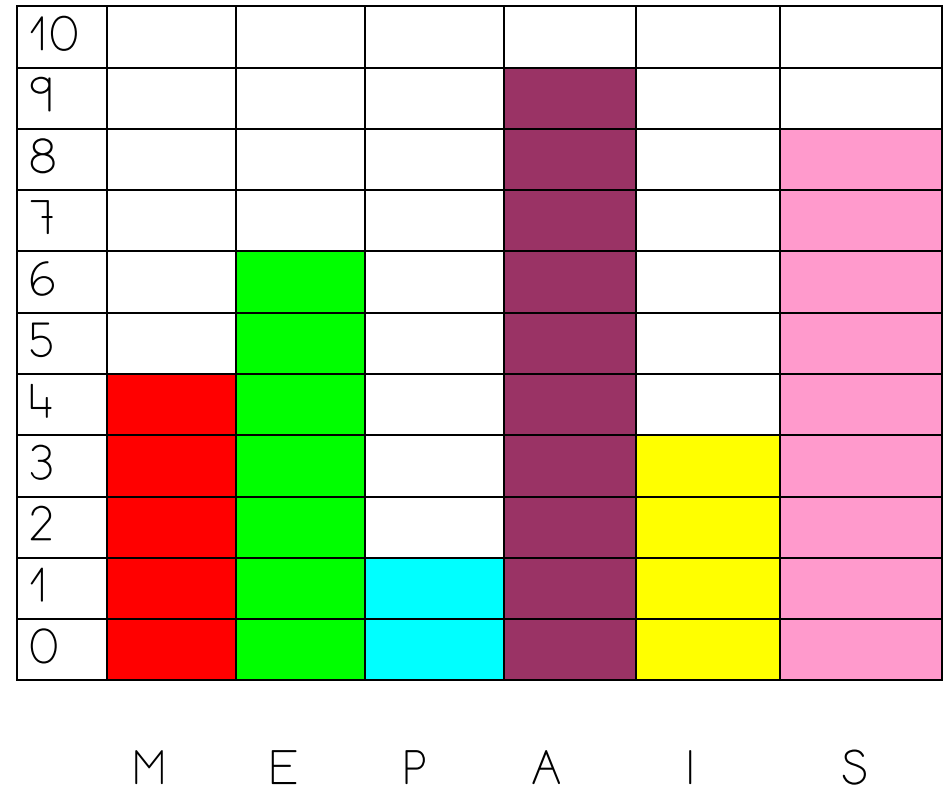
¿Quién ha comido menos helados?

.....

Ordena los nombres de los niños del que ha comido menos helados al que ha comido más:

.....

Nombre: Fecha:



En un aparcamiento hay 3.451 plazas para motos, 1.239 plazas para autobuses y 5.014 plazas para coches. ¿Cuántas plazas hay en total?

Datos

.....
.....
.....

Gráfico

Operación

.....
.....
.....
.....
.....
.....
.....
.....
.....
.....

Resultado:

.....

Juan tiene 1.245 cromos y Lara tiene 895 cromos. ¿Cuántos cromos tienen entre los dos?

Datos

.....
.....

Gráfico

Operación

.....
.....
.....
.....
.....
.....
.....
.....
.....
.....

Resultado:

.....


Nombre: Fecha:

En una granja hay 4.326 gallinas y 1.345 cerdos. ¿Cuántos cerdos hay menos que gallinas?

Datos

.....
.....
.....

Gráfico



Operación

.....
.....
.....
.....
.....
.....
.....
.....
.....
.....

Resultado:

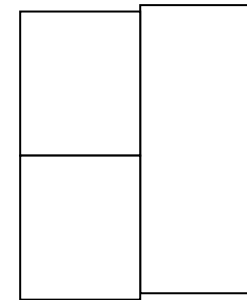
.....

En un restaurante hay 672 sillas. ¿Cuántas más tienen que colocar para que haya 950?

Datos

.....
.....

Gráfico



Operación

.....
.....
.....
.....
.....
.....
.....
.....
.....
.....

Resultado:

.....

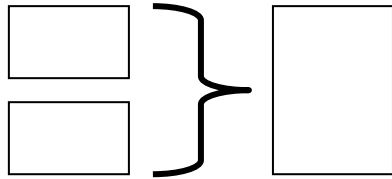
Nombre: Fecha:

.....
.....
.....

Datos

235 caramelos
59 gomumolas

Gráfico



Operación

$$\begin{array}{r} 235 \\ -59 \\ \hline \end{array}$$

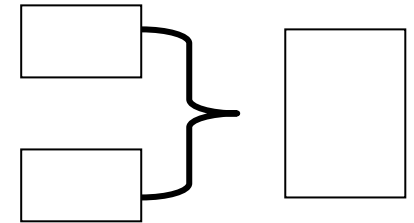
Resultado:
176 golosinas

.....
.....
.....

Datos

875 canicas rojas
129 canicas rojas

Gráfico



Operación

$$\begin{array}{r} 875 \\ -129 \\ \hline \end{array}$$

Resultado:
746 canicas rojas


Nombre: Fecha:

Elena tiene una tienda de prensa donde vende revistas y periódicos. Tiene 321 revistas de coches y 501 revistas de ordenadores. ¿Cuántas revistas tiene en total?

Datos

.....
.....

Gráfico



Operación

.....
.....
.....
.....
.....
.....
.....
.....
.....
.....

Resultado:

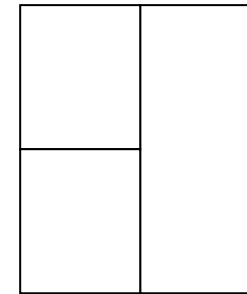
.....

En un circo con 594 asientos han vendido 235 entradas. ¿Cuántas entradas quedan por vender?

Datos

.....
.....

Gráfico



Operación

.....
.....
.....
.....
.....
.....
.....
.....
.....
.....

Resultado:

.....

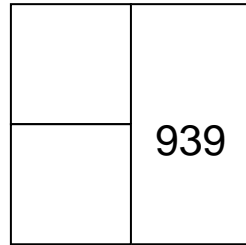
Nombre: Fecha:

José puede llevar 939 kilos de fruta en su furgoneta. Si ya ha cargado 356 kilos de manzanas, ¿cuántos kilos de naranjas podrá meter?

Datos

.....
.....

Gráfico



Operación

.....
.....
.....
.....
.....
.....
.....
.....
.....
.....

Resultado:

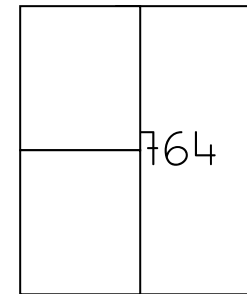
.....

Andrés tiene que recoger 764 kilos de aceitunas. Ha cogido 588 kilos. ¿Cuántos kilos le faltan por recoger?

Datos

.....
.....

Gráfico



Operación

.....
.....
.....
.....
.....
.....
.....
.....
.....
.....

Resultado:

.....

Nombre: Fecha:

Marta y Julia han ido a la feria.
Marta ha montado en 9 atracciones y
Julia, en el doble. ¿En cuantas
atracciones ha montado Julia?

Datos

.....
.....

Gráfico

Operación

.....

Resultado:

.....

Antonio tiene 7 nietos. Quiere regalarle
a cada uno un coche que cuesta 57 €
¿Cuánto dinero gastará?

Datos

.....
.....

Gráfico

Operación

.....

Resultado:

.....


Nombre: Fecha:

En una tienda había 205 bufandas.
Durante el invierno han vendido
149. ¿Cuántas bufandas les quedan?

Datos

.....
.....

Gráfico



Operación

.....
.....
.....
.....
.....
.....
.....
.....
.....
.....

Resultado:

.....

Susana tiene estas monedas. ¿Cuántos
céntimos le faltan para tener 3€

Datos

- 50 cent.

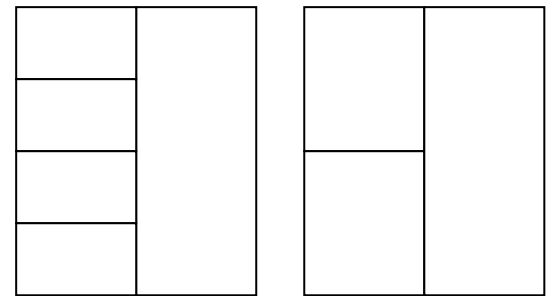
- 50 cent

- 1€

- 10 cent

- Operación

Gráfico



.....
.....
.....
.....
.....
.....
.....
.....
.....
.....

Resultado:

.....


Nombre: Fecha:

En una tienda había 1.345 cajas de galletas. Durante el día han vendido 1.197. ¿Cuántas cajas de galletas quedan por vender?

Datos

.....

Gráfico



Operación

Resultado:

.....

Juan tiene estas monedas. ¿Cuántos céntimos le faltan para tener 4€

Datos

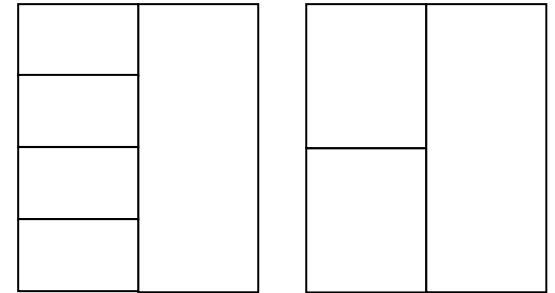
- 2 € - 200cent

 50 cent

 1€ - 100cent.

 20 cent

Gráfico



Operación

Resultado:

.....

Nombre: Fecha:

Dos montañeros están escalando una montaña. El primer día escalan 2.500 metros. El segundo día suben 810 metros. ¿Cuántos metros han subido en total?

Si la montaña tiene 3.500 metros ¿Cuántos metros tendrán que subir para llegar a la cima?

Datos

.....
.....

Gráfico

Operación

.....
.....
.....
.....
.....
.....
.....
.....
.....
.....

Resultado:

Marta ha ido al dentista esta mañana. Cuando llegó, estaban atendiendo al número 12 y ella tenía el número 27. ¿Cuántas personas tenía delante?

Datos

.....
.....

Gráfico

Operación

.....
.....
.....
.....
.....
.....
.....
.....
.....
.....

Resultado:

.....

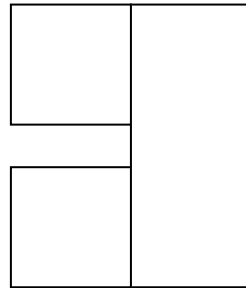
Nombre: Fecha:

Un bidón de aceite tiene 240 litros, si se sacan 156 litros. ¿Cuántos litros de aceite quedan en el bidón

Datos

.....
.....

Gráfico



Operación

.....

Resultado:

.....

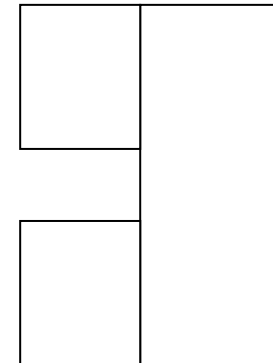
Nombre:

Mi padre se gasta 76 € y le quedaron 124 € ¿Cuántos euros tenía?.

Datos

.....
.....

Gráfico



Operación

.....

Resultado:

.....

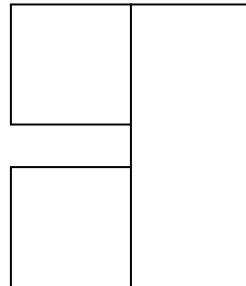
Fecha:

Mi abuelo plantó en el huerto 45 plantas de tomates, 36 de pepinos y 67 de zanahorias. ¿Cuántas plantas de tomate y zanahoria plantó?

Datos

.....
.....
.....

Gráfico



Operación

.....

Resultado:

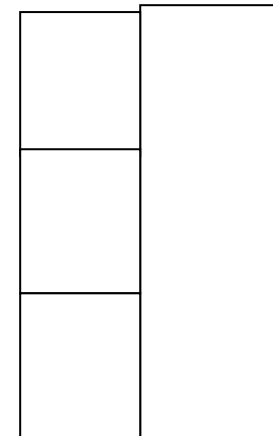
.....

Luis tiene 9 años, su amigo tiene 8 y su amiga Maria tiene 10. Si el hermano mayor de Luis tiene tantos años como Luis y sus amigos, ¿Cuántos años tiene el hermano de Luis?

Datos

.....
.....
.....

Gráfico



Operación

.....

Resultado:

.....

Nombre: Fecha:


Un panadero ha hecho diferentes clases de panes .Roscas 428, hogazas 289, barras 655 y chapatas 347.

¿Cuántos panes ha realizado en total?

Datos

.....
.....
.....
.....

Gráfico



Operación

.....
.....
.....
.....
.....
.....
.....
.....
.....
.....

Resultado:

.....

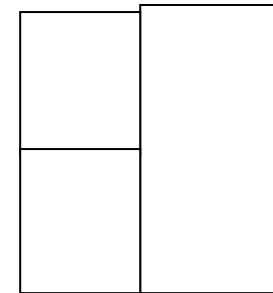
Nombre:

Carmen tenía un rebaño de 235 ovejas. Primero, compró 132 ovejas. Después, vendió 50 ovejas. ¿Cuántas ovejas tiene, ahora, Carmen?

Datos

.....
.....
Datos
.....
.....


Gráfico



Operaciones

.....
.....
.....
.....
.....
.....
.....
.....
.....
.....

Gráfico



Resultado:

.....

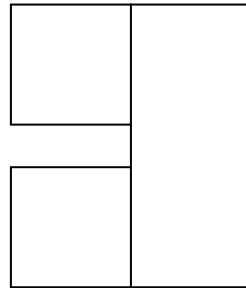
Fecha:

Un tren lleva 34 vagones y en cada vagón viajan 48 personas. ¿Cuántas personas viajan en el tren?

Datos

.....
.....

Gráfico



Operación

.....
.....
.....
.....
.....
.....
.....
.....
.....
.....

Resultado:

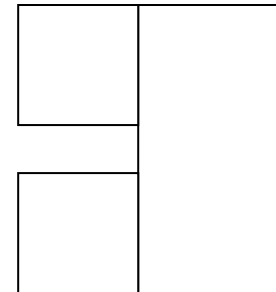
.....

Nuria ha comprado para la fiesta del colegio 24 cajas con 186 bollos cada una. ¿Cuántos bollos ha comprado en total?

Datos

.....
.....

Gráfico



Operación

.....
.....
.....
.....
.....
.....
.....
.....
.....
.....

Resultado:

.....

Nombre: Fecha:

Mamá fue a la compra y gastó 62€ en la frutería, 75€ en la carnicería y 86€ en la pescadería. Le sobraron 223 €. ¿Cuánto dinero llevaba?

Datos

.....

Gráfico

Operación

Resultado:

.....

Nombre: Fecha:

Juan compra un lápiz de 9 € y una libreta de 15 €. Le devuelven 26 €. ¿Cuánto dinero tenía?

Datos

.....

Gráfico

Operación

Resultado:

.....

Los 25 niños de una clase van a subir al autobús. El precio del billete es de 96 céntimos de €. ¿Cuánto costarán los billetes de toda la clase? Si pagan con 50€ ¿Cuánto dinero les tienen que devolver?

Datos

.....

Gráfico

Operación

Resultado:

Nombre: Fecha:

María compró en la tienda 3 latas de atún a 14€ cada lata y 2 botellas de leche a 8€ cada botella. ¿Cuánto le costó la compra?

Datos

.....

Datos

.....

Datos

.....

Operación

Gráfico

Resultado:

.....

El día de mi cumpleaños me regalaron una caja con 50 bombones. Di 12 a mi hermana, 6 a mi hermano y 8 a mi prima. ¿Cuántos bombones me quedan Datos

Gráfico

.....

12	¿?
6	
8	

Operación

--	--

	50

Resultado:

Un saco de patatas pesa 45 kilos. ¿Cuánto pesan 29 sacos de patatas?.

Datos

.....

Gráfico

Operación

--

Resultado:

.....


Nombre: Fecha:

Un depósito de agua tiene una capacidad de 1.000 litros. Si quedan 423 litros de agua, ¿cuántos litros se han gastado?

Datos

.....

Gráfico



Operación

.....

.....

Resultado:

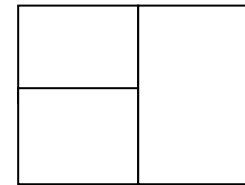
.....

Marta compró 24 globos rojos y 13 globos amarillos para la fiesta de su cumpleaños. ¿Cuántos globos compró en total?

Datos

.....
.....

Gráfico



Operación

.....

Resultado:

.....

Nombre: Fecha:

En un acuario había 235 peces.
Después compraron 28 más, pero se murieron 37. ¿Cuántos peces quedan ahora en el acuario?.

Datos

.....
.....
.....

Gráfico

235	¿?
28	

Operación

--	--

¿?	

Resultado:.....
.....

En una fábrica de refrescos hay un bidón con 166 litros de limonada. Se le añaden 151 litros. ¿Cuántos litros hay en total?.

Datos

.....
.....

Gráfico

Operación

--

Resultado:

.....


Nombre: Fecha:

Teresa y María quieren comprar un cuento que cuesta 12 euros. Una tiene 9 euros. ¿Cuántos euros tiene que poner la otra amiga?

Datos

.....
.....

Gráfico



Operación

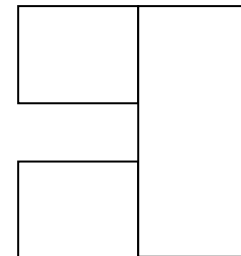
Resultado:
.....

Un carrete de hilo tiene 213 metros. ¿Cuántos metros habrá en 8 carretes?.

Datos

.....
.....

Gráfico



Operación

Resultado:

.....


Nombre: Fecha:

Quiero comprar un balón que cuesta 19 euros. Si tengo ahorrados 8 euros. ¿Cuántos euros me faltan?..

Datos

.....
.....

Gráfico



Operación

.....
.....
.....

Resultado:

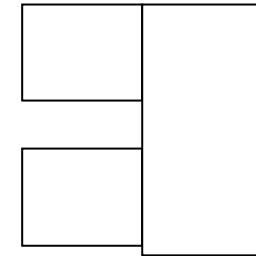
.....

¿Cuántos días hay en 18 semanas?..

Datos

.....
.....

Gráfico



Operación

.....
.....
.....

Resultado:

.....


Nombre: Fecha:

Un libro tiene 654 páginas. Silvia ya ha leído 234 páginas. ¿Cuántas páginas le quedan por leer?

Datos

.....
.....

Gráfico



Operación

.....
.....
.....
.....
.....

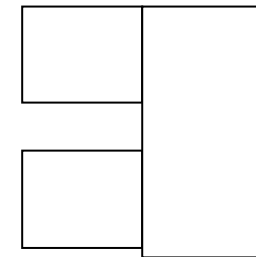
Resultado:
.....

¿Cuántas patas tienen 34 conejos?.

Datos

.....
.....

Gráfico



Operación

.....
.....
.....
.....
.....

Resultado:
.....


Nombre: Fecha:

Un niño va leyendo un libro por la página 89, al día siguiente lee otras 78 páginas. ¿A qué página habrá llegado?

Datos

.....
.....

Gráfico



Operación

.....

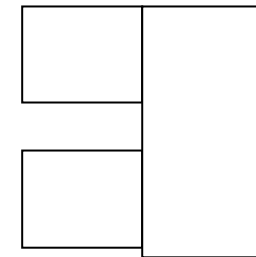
Resultado:
.....

Un edificio tiene 7 pisos. Si en cada piso hay 45 ventanas. ¿Cuántas ventanas tiene el edificio?

Datos

.....
.....

Gráfico



Operación

.....

Resultado:
.....

Nombre: Fecha:

Cesar ha comprado dos cuentos, uno le ha costado 526 céntimos y el otro 398 céntimos. Si le sobraron 176 céntimos. ¿Cuántos céntimos tenía??

Datos

.....

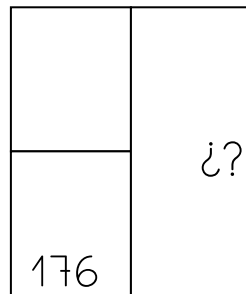
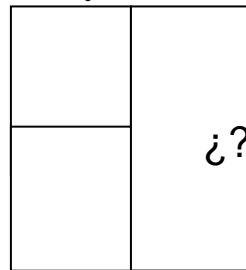
Datos

.....

Operación

.....

Gráfico



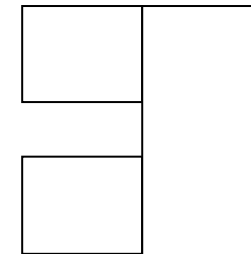
Resultado:.....

En un salón hay 45 mesas con 5 sillas cada una. ¿Cuántas sillas hay en el salón?.

Datos

.....

Gráfico



Operación

.....

Resultado:

.....

Nombre: Fecha:

Un escalador tiene que subir un monte que está a 1.234 metros de altura. Si ya ha subido 654 metros. ¿Cuántos metros le quedan por subir?


Datos

.....
.....

Operación

.....
.....
.....
.....
.....

Gráfico



Resultado:.....
.....

Juana ha comprado con 234 céntimos un lápiz y un libro. Si el lápiz le ha costado 76 céntimos. ¿Cuánto le ha costado el libro?

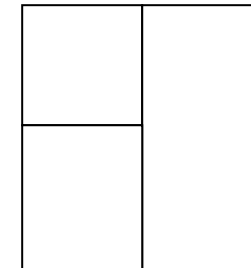
Datos

.....
.....

Operación

.....
.....
.....
.....
.....

Gráfico



Resultado:
.....

Nombre: Fecha:

Un equipo de baloncesto tiene 5 jugadores. ¿Cuántos jugadores habrá en 12 equipos?

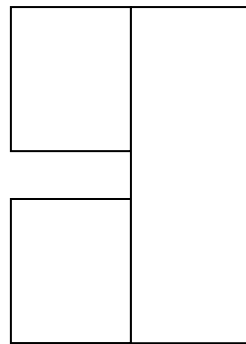
Datos

.....
.....

Operación

.....
.....
.....
.....
.....
.....
.....
.....
.....
.....

Gráfico



Resultado:
.....

Un agricultor ha plantado 12 perales, 6 manzanos y 24 naranjos. ¿Cuántos árboles ha plantado?

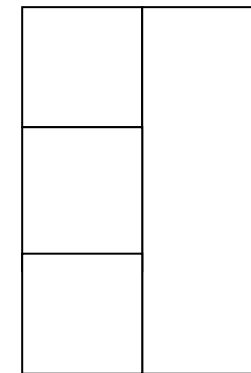
Datos

.....
.....
.....

Operación

.....
.....
.....
.....
.....
.....
.....
.....
.....
.....

Gráfico



Resultado:
.....


Nombre: Fecha:

Un armario tiene 136 libros de aventuras, 234 libros de miedo y 98 libros de fantasía. ¿Cuántos libros hay en el armario? Si la profesora de 4^o se lleva 38 libros para sus alumnos. ¿Cuántos libros quedan ahora en el armario?

Datos


.....

Gráfico



Operación

.....



Resultado

.....


Nombre: Fecha:

Un libro tiene 245 páginas, si voy leyendo por la 129. ¿Cuántas páginas me quedan por leer?

Datos

.....

Gráfico



Operación

.....

Resultado:


.....

Un boli cuesta 87 céntimos y una goma 34 céntimos. ¿Cuánto cuesta más el boli que la goma?

Datos

.....
.....

Gráfico



Operación

.....
.....
.....
.....
.....

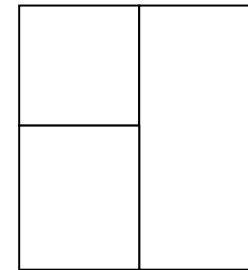
Resultado:
.....

Mi mamá ha puesto en un jarrón 12 rosas y 15 claveles. ¿Cuántos claveles ha puesto mi mamá en el jarrón?.

Datos

.....
.....

Gráfico



Operación

.....
.....
.....
.....
.....

Resultado:
.....


Nombre: Fecha:

Los niños de la clase han traído para desayunar 8 manzanas, 12 plátanos y 9 bocadillos. ¿Cuántos niños han traído fruta?

Datos

.....

Gráfico



Operación

.....


Resultado:

Los niños de la clase tienen 7 años y el profesor 28. ¿Cuántos años es mayor el profesor que los niños?

Datos

.....

Gráfico



Operación

.....

Resultado:

.....


Nombre: Fecha:

Luis tiene 167 cromos pero tiene 35 repetidos. ¿Cuántos tiene sin repetir?

Datos

.....
.....

Gráfico



Operación

.....

Resultado:

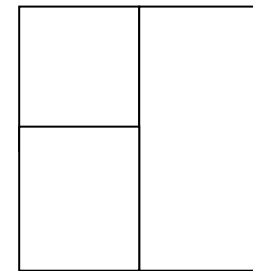
.....

En un autobús en el que caben 58 personas van 23 asientos vacíos. ¿Cuántas personas viajan en el autobús?

Datos

.....
.....

Gráfico



Operación

.....

Resultado:

.....

Nombre: Fecha:

En una bolsa hay 15 globos rojos, 23 verdes y ocho amarillos. ¿Cuántos globos rojos y amarillos hay en la bolsa?

Datos

.....
.....
.....

Operación

.....
.....
.....
.....
.....
.....
.....
.....
.....
.....

Gráfico

Resultado:
.....

Un ramo de flores tiene seis rosas rojas, 5 rosas blancas, 14 rosas amarillas y 8 claveles. ¿Cuántas rosas tiene el ramo?

Datos

.....
.....
.....
.....

Operación

.....
.....
.....
.....
.....
.....
.....
.....
.....
.....

Gráfico

Resultado:

.....


Nombre: Fecha:

Un lápiz cuesta 67 céntimos, un sacapuntas 25 céntimos y una libreta 98 céntimos. ¿Cuánto cuesta el lápiz y el sacapuntas?

Datos

.....
.....

Gráfico



Operación

.....

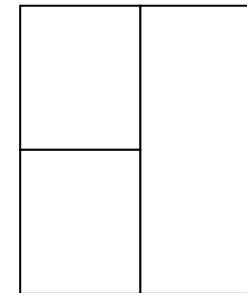
Resultado:

Un lápiz cuesta 67 céntimos, un sacapuntas 25 céntimos y una libreta 98 céntimos. ¿Cuánto cuesta más la libreta que el lápiz?..

Datos

.....
.....

Gráfico



Operación

.....

Resultado:

Nombre: Fecha:

Una señora ha comprado la merienda para sus tres hijos. A cada uno le ha comprado un bocadillo de 120 céntimos y un pastelito de 90 céntimos. ¿Cuánto le ha costado la merienda

Datos

..... y

..... y

..... y

Gráfico

Gráfico

Operación

Resultado:

Nombre: Fecha:

Una señora ha comprado 3 Kilos de naranjas a 105 céntimos el Kilo y 8 Kilos de plátanos a 130 céntimos el Kilo. ¿Cuánto se ha gastado?.

Datos

.....

.....

Gráfico

Operación

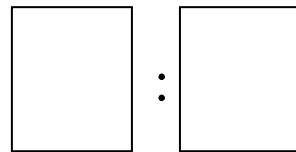
Resultado:

Juan tiene 24 cromos y los mete en 2 sobres. ¿Cuántos cromos pone en cada sobre?

Datos

.....
.....

Gráfico



Operación

.....
.....
.....
.....
.....
.....
.....
.....
.....
.....



Resultado:

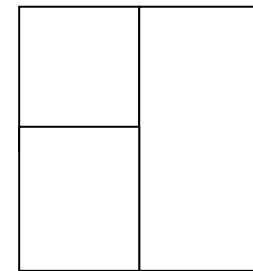
.....

Un rebaño se compone de 189 ovejas blancas y de 98 ovejas negras. ¿Cuántas ovejas negras hay?

Datos

.....
.....

Gráfico



Operación

.....
.....
.....
.....
.....
.....
.....
.....
.....
.....

Resultado:

.....

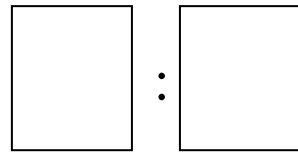
Nombre: Fecha:

Compramos una bicicleta por 95 Euros. La pagamos en 5 plazos. ¿Cuántos plazos pagamos cada vez?.

Datos


.....
.....

Gráfico



Operación

.....
.....
.....
.....
.....
.....
.....
.....
.....
.....



Resultado:

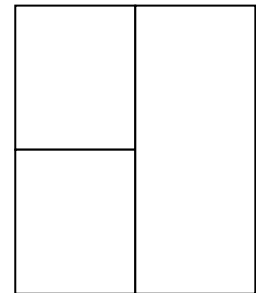
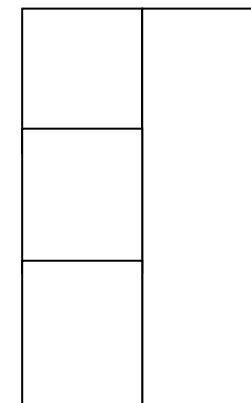
.....

El día de mi cumpleaños me regalaron una caja con 50 bombones. Di 12 a mi primo, 7 a mi hermano y 10 a mi hermana. ¿Cuántos bombones me quedan?.

Datos

.....
.....
.....

Gráfico



Operación

.....
.....
.....
.....
.....
.....
.....
.....
.....
.....

Resultado:

.....

Nombre: Fecha:

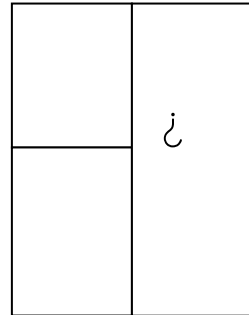
María tiene 10 pegatinas. Juan tiene 15 pegatinas. ¿Cuántas pegatinas tienen entre los dos?

Datos

María

Juan

Gráfico



Operación

Resultado:

.....

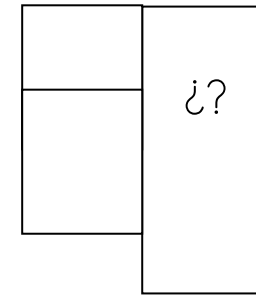
Álvaro tiene un estuche con 36 pinturas y Carlos tiene un estuche con 24 pinturas. ¿Cuántas pinturas tienen entre los dos?

Datos

Álvaro

Carlos

Gráfico



Operación

Resultado:

.....


Nombre: Fecha:

En el patio del colegio están jugando al fútbol 12 niños. Se apuntan para jugar 14 niños más. ¿Cuántos niños pueden jugar al fútbol?

Datos

12
14

Gráfico



Operación

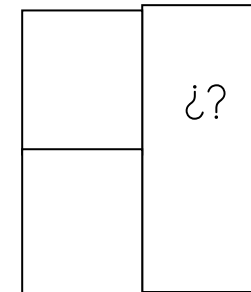
Resultado:
.....

Tengo una caja con 24 caramelos. Mi mamá por portarme bien me da 12 caramelos. ¿Cuántos caramelos tengo en total?

Datos

Caramelos
Mamá

Gráfico




Operación

Resultado:
.....

Nombre: Fecha:

Tengo una caja con 5 pollitos. Me dan 2 pollitos más : ¿Cuántos pollitos tengo ahora?

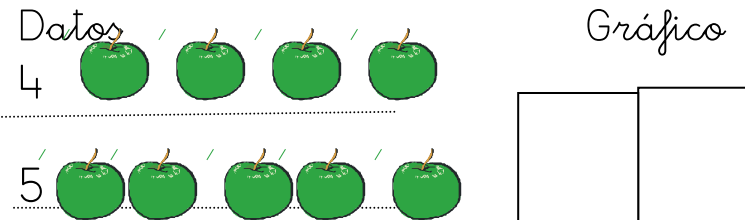


Operación

Resultado:

.....

Tengo una bandeja con 4 manzanas. Me dan 5 manzanas más. ¿Cuántas manzanas tengo ahora?



Operación

Resultado:

.....

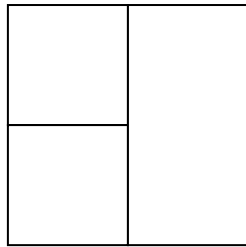
Nombre: Fecha:

Un coche cuesta 124 euros, un balón 105 y un tren 108. ¿Cuánto cuesta más el coche que el tren?

Datos

.....
.....
.....

Gráfico



Operación

.....
.....
.....
.....
.....
.....
.....
.....
.....
.....

Resultado:

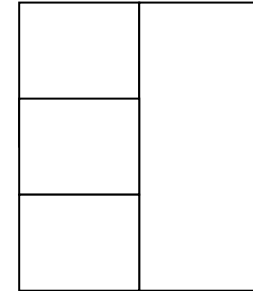
.....

Luis tiene 9 años, su amigo Juan 8 y su amiga María 10. Si el hermano de Luis tiene tantos años como Luis y sus amigos. ¿Cuántos años tiene su hermano?

Datos

.....
.....
.....

Gráfico



Operación

.....
.....
.....
.....
.....
.....
.....
.....
.....
.....

Resultado:

.....


Nombre: Fecha:

Un tren lleva 104 pasajeros y van 78
asientos vacíos. ¿Cuántos pasajeros
puede llevar el tren?

Datos

.....
.....

Gráfico



Operación

.....
.....
.....
.....
.....
.....
.....
.....
.....
.....

Resultado:
.....

De una bolsa de 257 caramelos hemos
repartido 136. ¿Cuántos caramelos
hemos repartido?

Datos

.....
.....

Gráfico



Operación

.....
.....
.....
.....
.....
.....
.....
.....
.....
.....

Resultado:
.....

Nombre: Fecha:

Un padre reparte 64 euros entre sus 4 hijos. ¿Cuánto le dio a cada uno?

Datos

.....
.....

Gráfico



Operación

.....
.....
.....
.....
.....
.....

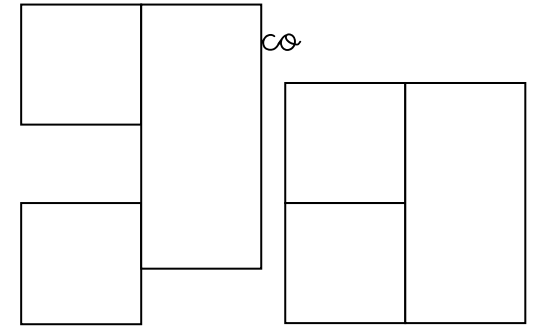
Resultado:
.....

Juanito ha ahorrado 123 céntimos y su hermana el doble. ¿Cuánto ha ahorrado su hermana?

¿Cuánto han ahorrado entre los dos?

Datos

.....
.....



Operación

.....
.....
.....
.....
.....
.....

Resultado:

.....

Resultado

.....

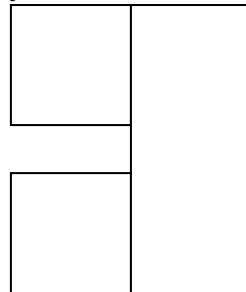
Nombre: Fecha:

Marta tiene 4 acuarios iguales con 12 peces naranjas y 7 peces azules en cada. ¿Cuántos peces naranjas hay en total?

Datos

.....
.....
.....

Gráfico



Operación

.....

Resultado:

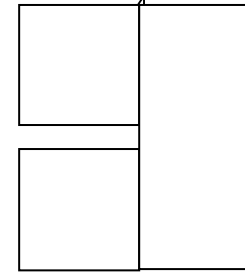
.....

En una granja hay 24 gallinas y 33 pollitos. ¿Cuántas patas tienen entre todas las gallinas?

Datos

.....
.....

Gráfico



Operación

.....

Resultado:

.....


Nombre: Fecha:

En un hotel había 576 personas.
 Se marcharon 319 personas y luego
 llegaron 304. ¿Cuántas personas hay
 ahora en el hotel?.


Datos

.....

Gráfico



Gráfico



Operación

.....

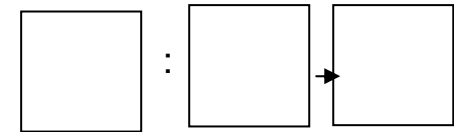
Resultado:

Una caja tiene 144 galletas. Las quiero
 repartir entre 6 niños. ¿Cuántas
 galletas le tocarán a cada uno?.

Datos

.....

Gráfico



Operación

.....

Resultado:

.....


Nombre: Fecha:

Soraya tiene 8 € y Javier 14 €
¿Cuántos euros tienen entre los dos hermanos?

Datos

.....
.....

Gráfico



Operación

.....
.....
.....
.....
.....
.....
.....
.....
.....
.....


Resultado:
.....

Mi hermano y mi primo fueron a buscar setas al bosque. Mi hermano encontró 27 y mi primo 34 setas. ¿Cuántas setas encontraron entre los dos?

Datos

.....
.....

Gráfico



Operación

.....
.....
.....
.....
.....
.....
.....
.....
.....
.....

Resultado:
.....

Nombre: Fecha:

Papá me ha dado 212 céntimos y mamá 150 céntimos. Quiero comprarme un cuento que cuesta 230 céntimos. ¿Cuánto dinero tengo? Si me compro el libro ¿Cuánto me sobra?

Datos

.....

Gráfico

Operación

Resultado:

.....

Nombre: Fecha:

Cinco amigas ponen 320 céntimos cada una para hacer un regalo. ¿Cuántos céntimos reúnen?

Datos

.....

Gráfico

Operación

Resultado:

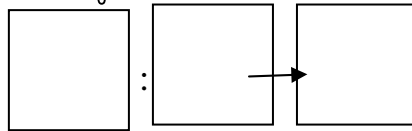
.....

Juan tiene 234 cromos y los reparte en 3 sobres. ¿Cuántos cromos pone en cada sobre?

Datos

.....
.....

Gráfico



Operación

.....
.....
.....
.....
.....

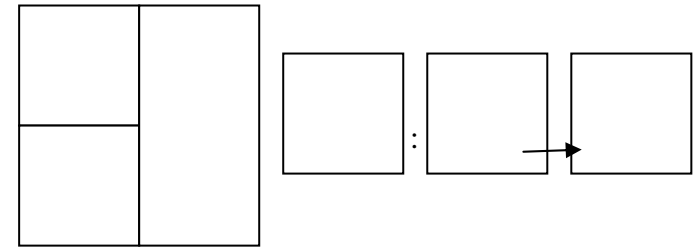
Resultado:
.....

Nombre: Fecha:

Tengo 180 céntimos y mi papá me da 120 céntimos más. ¿Cuántos céntimos tengo? Si los reparto con mis 3 hermanos ¿Cuánto le daré a cada uno?

Datos

.....
.....



Operación

.....
.....
.....
.....
.....

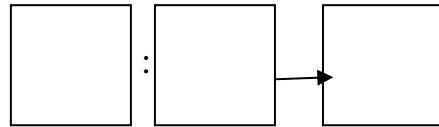
Resultado:
.....
.....

En la frutería tienen 396 cajas de fruta. Las quieren colocar en 6 estantes. ¿Cuántas cajas de fruta colocaran en cada estante?

Datos

.....
.....

Gráfico



Operación

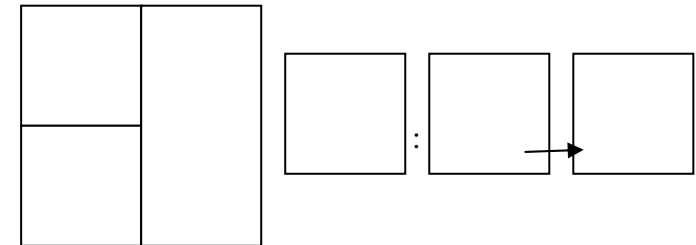
.....
.....
.....
.....
.....
.....
.....
.....
.....
.....

Resultado:

Tengo 352 Euros y mi abuelo por mi Comunión me da 230 Euros más. ¿Cuántos Euros tengo ahora? Si los reparto con mis 4 hermanos ¿Cuánto le daré a cada uno?

Datos

.....
.....



Operación

.....
.....
.....
.....
.....
.....
.....
.....
.....
.....

Resultado:

.....
.....


Nombre: Fecha:

En una piscina había 453 personas...
 Se marcharon 213 personas y por la tarde entraron 145 personas.
 ¿Cuántas personas hay ahora en la piscina?


Datos

.....

Gráfico



Gráfico



Operación

.....

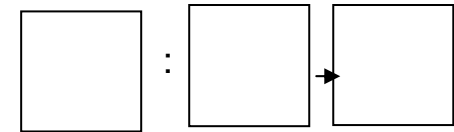
Resultado:

Una caja de bombones tiene 2.570 piezas. Las quiero repartir en cajas mas pequeñas. Si las reparto en 5 cajas. ¿Cuántas piezas tendra cada caja?

Datos

.....

Gráfico



Operación

.....

Resultado:

.....

Nombre: Fecha:

.....
.....
.....

Datos

12 paquetes
cada paquete 47
caramelos

Gráfico



Operación

.....
.....
.....
.....
.....
.....
.....
.....
.....
.....

Resultado:

.....
.....

.....
.....
.....

Datos

147 cromos
entre 7 niños

Gráfico



Operación

.....
.....
.....
.....
.....
.....
.....
.....
.....
.....

Resultado:

.....
.....

Nombre: Fecha:

Mi tío me ha dado de propina 125 céntimos y mi tía 212 céntimos. ¿Cuántos céntimos me han dado en total? Si me compro un libro que me cuesta 115 céntimos. ¿Cuánto me sobra?

Datos

.....

Gráfico

Operación

Resultado:

.....

Cinco amigas ponen 120 céntimos cada una para hacer un regalo. ¿Cuántos céntimos reúnen? Si el regalo les cuesta 275 céntimos, ¿cuánto dinero les sobra para chucherías?

Datos

.....

Gráfico

veces			

Operación

Resultado:

.....

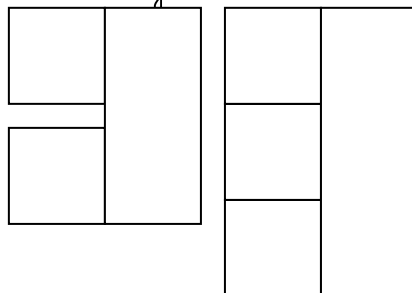
Nombre: Fecha:

Me quiero comprar un lapicero que me cuesta 25 céntimos, una goma que me cuesta 19 céntimos y un bolígrafo que me cuesta el doble que la goma céntimos. ¿Cuánto dinero me voy a gastar en total?

Datos

.....

Gráfico



Operación:

Resultado:

.....

Tengo en la hucha ahorrados 336 € Los quiero repartir entre mis tres hermanos. ¿Cuántos € tengo que dar a cada uno?

Datos

.....

Gráfico



Operación

Resultado:

.....


Nombre: Fecha:

Jesús tiene 78 céntimos, Mario 90 y Andrés 234 céntimos. ¿Cuántos céntimos tienen entre los tres juntos?

Datos

.....
.....

Gráfico



Operación

.....
.....
.....
.....
.....
.....
.....
.....
.....
.....

Resultado:

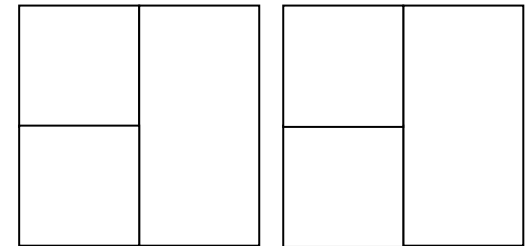
.....

Un tren lleva 234 pasajeros. En una estación se suben 34 pasajeros y en otra se bajan 75 pasajeros. ¿Cuántos pasajeros lleva el tren ahora?

Datos

.....
.....

Gráfico



Operación

.....
.....
.....
.....
.....
.....
.....
.....
.....
.....

Resultado:

.....

Nombre: Fecha:

Juan tiene 188 euros y los quiere repartir a partes iguales con sus dos hermanos. ¿Con cuánto dinero se quedará cada uno?

Datos

.....
.....

Gráfico

:

Operación

.....
.....
.....
.....
.....

Resultado:

.....

Nombre:

Un niño tiene 120 camisas y las mete en 4 bolsas. ¿Cuántas camisas pondrá en cada bolsa?

Datos

.....
.....

Gráfico

:

Operación

.....
.....
.....
.....
.....

Resultado:

.....

Fecha:

Si 5 libretas me han costado 340 céntimos. ¿Cuántos céntimos me costará una?

Datos

.....
.....

Gráfico

:

Operación

.....
.....
.....
.....
.....
.....
.....
.....
.....
.....

Resultado:

.....

Tengo 234 canicas metidas en 9 bolsas. ¿Cuántas canicas tiene cada bolsa?

Datos

.....
.....

Gráfico

:

Operación

.....
.....
.....
.....
.....
.....
.....
.....
.....
.....

Resultado:

.....

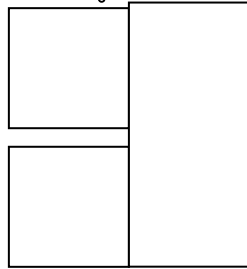
Nombre: Fecha:

Un camión lleva 234 cerdos.
¿Cuántas patas de cerdo lleva el camión?

Datos

.....
.....

Gráfico



Operación

.....
.....
.....
.....
.....
.....
.....
.....
.....
.....

Resultado:

.....

Un padre reparte 2.313 céntimos
entre sus tres hijos. ¿Cuántos
céntimos le dará a cada uno?

Datos

.....
.....

Gráfico



Operación

.....
.....
.....
.....
.....
.....
.....
.....
.....
.....

Resultado:

.....

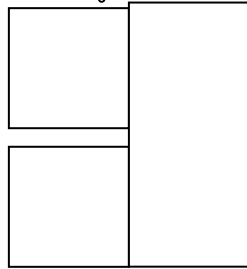
Nombre: Fecha:

Un camión lleva 234 cerdos.
¿Cuántas patas de cerdo lleva el camión?.

Datos

.....
.....

Gráfico



Operación

A large dashed rectangular box intended for writing the mathematical operation to solve the problem.

Resultado:

.....

Un padre reparte 2.313 céntimos
entre sus tres hijos. ¿Cuántos
céntimos le dará a cada uno?.

Datos

.....
.....

Gráfico



Operación

A large dashed rectangular box intended for writing the mathematical operation to solve the problem.

Resultado:

.....


Nombre: Fecha:

Mi mamá ha puesto en unas jardineras 12 rosas, 15 claveles y 24 tulipanes. ¿Cuántos claveles ha puesto en las jardineras?.

Datos

.....
.....

Gráfico



Operación

.....
.....
.....
.....
.....


Resultado:
.....

Luis tiene 3 bolsas de caramelos. En una tiene 15 de fresa, en otra tiene 34 de menta y en otra tiene 45 de naranja. ¿Cuántos caramelos tiene de fresa y naranja?..

Datos

.....
.....

Gráfico



Operación

.....
.....
.....
.....
.....

Resultado:
.....

Nombre: Fecha:

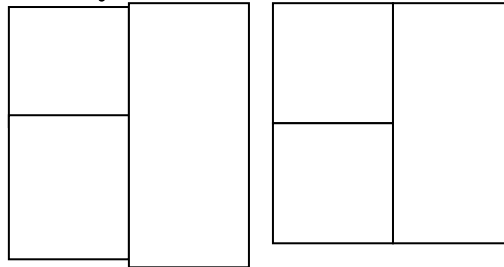
En un armario hay 176 libros y en otro 89. Cuántos libros hay entre los dos armarios?.

¿Cuántos libros hay más en el primer armario que en el segundo

Datos

.....

Gráfico



Operación

.....

Resultado:

Una señora va a comprar con 24 euros. Se gasta 3 euros en chocolate, 2 euros en galletas y 13 en fruta.

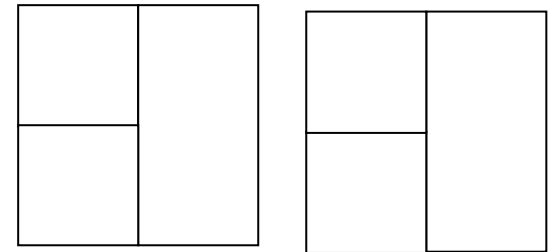
¿Cuánto dinero se gastó la señora?.

¿Cuánto dinero le sobra?.

Datos

.....

Gráfico



Operación

.....

Resultado:

Nombre: Fecha:

Antonio tiene 150 céntimos y le regalan 78. ¿Cuántos céntimos tiene?

Si con ese dinero se compra tres libretas iguales. ¿Cuánto le ha costado cada una?

Datos

.....
.....

Gráfico

Operación

.....
.....
.....
.....
.....
.....
.....
.....
.....
.....

	:		
--	---	--	--

Resultado:

.....

En una granja había 790 pollos y se vendieron 340. ¿Cuántos quedan?

Si salen de la incubadora 234, ¿cuántos hay ahora?

Datos

.....
.....

Gráfico

Operación

.....
.....
.....
.....
.....
.....
.....
.....
.....
.....

Resultado:

.....

Nombre: Fecha:

En un campo hay 45 almendros y 67 ciruelos. ¿Cuántos árboles hay en total?

Datos

Almendros:

Ciruelos:

Gráfico

	¿?

Operación

:

Resultado:

.....

Nombre: Fecha:

Un tren lleva 64 viajeros en un vagón y 70 en otro. ¿Cuántos viajeros lleva en total?

Datos

Viajeros:

Viajeros:

Gráfico

	¿?

Operación

Resultado:


.....

En el salón de actos del colegio se pueden sentar 147 personas. Quieren entrar 218 personas. ¿Cuántas personas sobran?

Datos

:
.....
.....

Gráfico



Operación

:

.....

Resultado:


.....

En un tren van a viajar 236 personas. Queremos repartirlas en 3 departamentos. ¿Cuántas personas entrarán en cada departamento?

Datos

.....
.....

Gráfico



Operación

.....

Resultado:

.....


Nombre: Fecha:

En el almacén hay 493 cajas de fruta. El encargado va a repartirlas en 4 fruterías. ¿Cuántas cajas de fruta dejará en cada frutería?

Datos

.....
.....

Gráfico



Operación

:

.....
.....
.....


Resultado:.....
.....

Han llegado a un colegio 342 libros. Vamos a repartirlos entre 6 clases. ¿Cuántos libros tendrá cada clase?

Datos

.....
.....

Gráfico



Operación

.....
.....
.....

Resultado:.....
.....

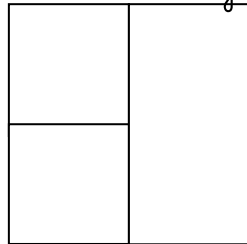
Nombre: Fecha:

En el restaurante hay 134 personas.
 En el bar hay 87. ¿Cuántas personas
 se tienen que ir del restaurante para
 que queden las mismas que en el
 bar?

Datos

.....

Gráfico



Operación

:

Resultado:

.....

Nombre:

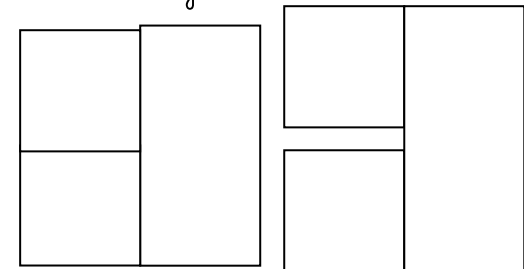
Hay 284 personas que quieren entrar
 en el cine. En el cine solo caben 218
 personas. ¿Cuántas personas se
 quedan sin entrar?

Si cada entrada cuesta 7 euros. ¿Cuánto
 dinero pierde el dueño del cine por no
 tener suficientes butacas?

Datos

.....

Gráfico



Operación

Resultado:

.....

Resultado:

.....

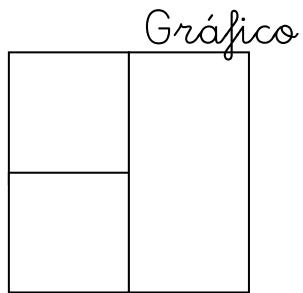
Fecha:

En un almacén hay 168 bolsas de patatas. Un camión le trae 135 bolsas más. ¿Cuántas bolsas de patatas hay ahora en el almacén?

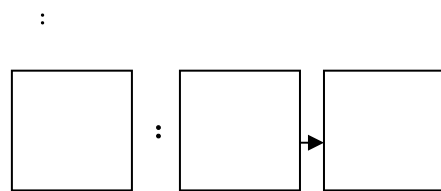
Si las reparten entre tres supermercados, ¿Cuántas bolsas de patatas puede vender cada supermercado?

Datos

.....



Operación



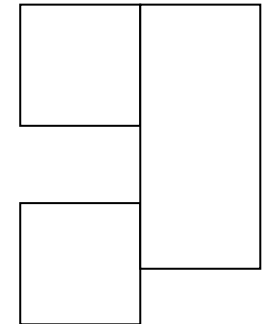
Resultado:

Nombre: Fecha:

Una ración de patatas fritas vale 250 céntimos. Una hamburguesa grande con queso vale el triple que la ración de patatas. ¿Cuánto vale la hamburguesa?

Datos

.....



Operación

Resultado:

 Resultado:

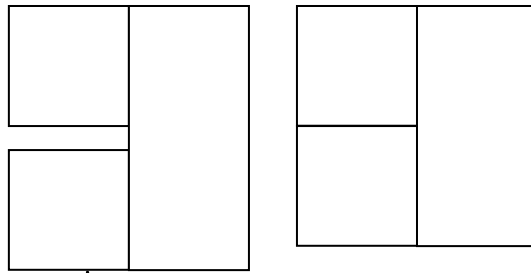
Carlos tiene 560 céntimos y su hermana el doble. ¿Cuántos céntimos tiene su hermana?

¿Cuántos céntimos tienen entre los dos?

Datos

.....
.....

Gráfico



Operación

.....

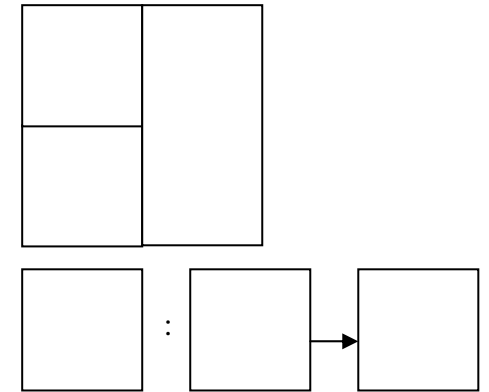
Resultado:
.....

Si tengo 180 céntimos y mi papá me da 120 céntimos más. ¿Cuántos céntimos tengo en total? Si los reparto entre mis tres hermanos ¿Cuánto le daré a cada uno?

Datos

.....
.....

Gráfico



Operación

.....

Resultado:

.....

Resultado:

Nombre: Fecha:


Un comerciante ha comprado 340
chocolatinas a 32 céntimos cada una.
¿Cuánto le han costado?

Si las vende a 5 céntimos cada
una. ¿Cuántos céntimos le darán?

Datos


.....
.....

Gráfico



Operación

.....
.....
.....
.....
.....
.....
.....
.....
.....
.....



Resultado:

.....

Nombre: Fecha:

Un labrador ha plantado 5 filas de
24 perales cada una y 13 filas de 29
manzanos cada una. ¿Cuántos
perales ha plantado?

¿Cuántos manzanos ha plantado?
¿Cuántos árboles ha plantado en
total?

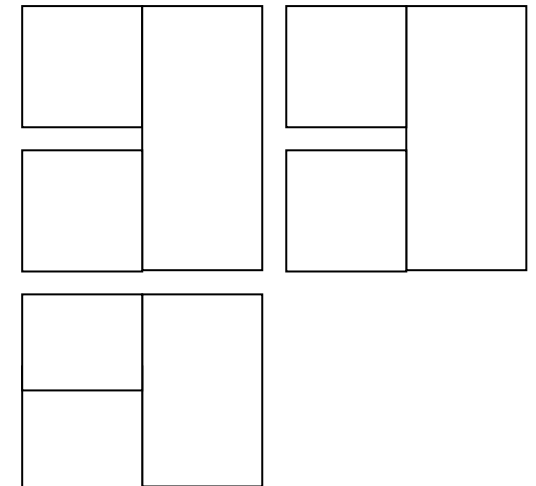
Datos

.....
.....
.....

Operación

.....
.....
.....
.....
.....
.....
.....
.....
.....
.....

Gráfico



Resultado:

.....

Resultado:

Total:

Para invitar a sus amigos el día de su santo, Luis compró 17 helados de vainilla a 72 céntimos cada uno y 8 de chocolate a 84 céntimos cada uno. ¿Cuánto le costaron los helados de vainilla?.

Datos

.....

Gráfico

Operación

Resultado:

.....

Nombre: Fecha:

Un depósito de gasolina tiene 7.880 litros. Un día se venden 345 litros y al siguiente 457 litros. ¿Cuántos litros se han vendido?..

Datos

.....

Operación

Gráfico

Resultado:

.....

Resultado:

Compro un diccionario por 18 euros y para pagarlo entrego 6 billetes de 5 euros. ¿Cuánto dinero he entregado?
 ¿Cuánto dinero me sobra?

Datos

.....

Gráfico

Operación

Resultado:

Mi papá gana al mes 840 euros. Gastamos 480 en comida y 123 en ropa. ¿Cuántos euros gastamos al mes? ¿Cuántos euros ahorramos al mes?..

Datos

.....

Gráfico

Operación

Resultado:

 Resultado:

Nombre: Fecha:

Mi padre ha llevado a la cooperativa 8 sacos de aceitunas de 46 kilos cada saco. ¿Cuántos kilos ha llevado?

Si le han pagado el kilo de aceitunas a 85 céntimos. ¿Cuántos euros le han dado? (100 céntimos = 1€)

Datos

.....

Gráfico

Operación

Un ganadero tiene 187 ovejas, 78 cabras y 16 vacas. ¿Cuántos animales tiene?

Si vende 34 ovejas. ¿Cuántas ovejas le quedan?.

Datos

.....

Gráfico

Operación

Resultado:

.....

Resultado:

.....

Nombre: Fecha:

Para amueblar una habitación se compra una mesa por 72 euros, un escritorio por el doble y seis sillas por 30 euros cada una. ¿Cuánto cuesta el escritorio? ¿Cuánto cuestan las sillas?

Datos

.....

Gráfico

Operación

.....

Resultado.....
 Resultado.....
 Todo en total.....

Nombre: Fecha:

Un día tiene 24 horas y una hora tiene 60 minutos. ¿Cuántos minutos tiene un día?. ¿Cuántos minutos hay en 15 días?.

Datos

.....

Gráfico

Operación

.....

Resultado:.....

 Resultado:.....


La mamá de Lola tiene dos macetas de claveles. En una maceta tiene 23 claveles y en la otra 12 claveles. Si corta 17 claveles ¿Cuántos claveles ha cortado?

¿Cuántos claveles tiene en total?
 ¿Cuántos claveles le quedan en las macetas?

Datos

.....

Gráfico



Operación

.....

:
 Resultado.....

 Resultado.....


 Le quedan

En un supermercado quieren colocar 864 botes de aceitunas en 4 torres. ¿Cuántos botes de aceitunas colocaran en cada torre?

Datos

.....

Gráfico



Operación

.....

Resultado.....

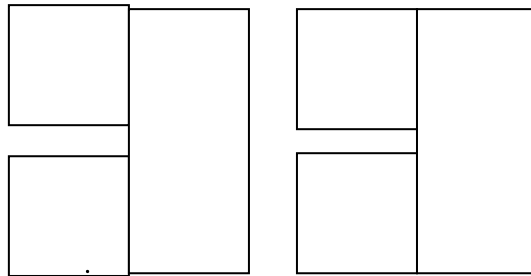
Nombre: Fecha:

Una motos acuática cuesta 6.415 y un yate 3.260 Euros. ¿Cuánto cuestan en total tres yates y dos motos acuáticas?.

Datos


.....

Gráfico



Operación

.....



Resultado: Los

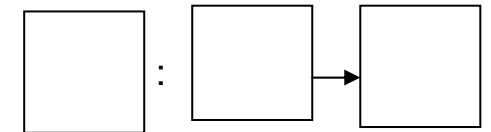
yates:
 Las motos
 Total:

Si una moto cuesta la mitad de un coche y el coche vale 8.426 Euros. ¿Cuánto vale la moto?

Datos

.....

Gráfico



Operación

.....

Resultado.....

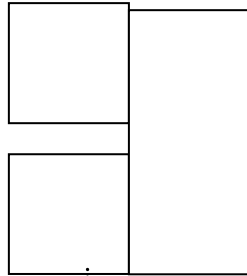
Nombre: Fecha:

Un sello me vale 9 céntimos. Si necesito comprar 35 sellos. ¿Cuánto dinero me costarán?

Datos

.....
.....

Gráfico



Operación

.....
.....
.....
.....
.....
.....
.....
.....
.....
.....

Resultado.....

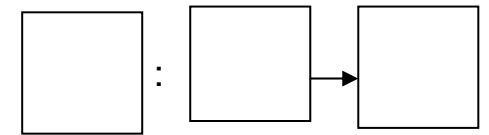
.....

Mi abuelo quiere repartir entre sus 4 nietos 360 Euros a partes iguales. Cuánto le corresponderá a cada nieto?

Datos

.....
.....

Gráfico



Operación

.....
.....
.....
.....
.....
.....
.....
.....
.....
.....

Resultado.....


Nombre: Fecha:

Un camión cargado de patatas pesa 4.200 kilos, si el camión sin cargar pesa 3.500 kilos, ¿Cuánto pesa la carga?

Datos

.....
.....

Gráfico



Operación

.....
.....
.....
.....
.....
.....
.....
.....
.....
.....


:
Resultado.....
.....

Un tren va cargado con 1.648 coches, si los lleva en 8 contenedores por igual. ¿Cuántos coches lleva cada contenedor?

Datos

.....
.....

Gráfico



Operación

.....
.....
.....
.....
.....
.....
.....
.....
.....
.....

Resultado.....

Nombre: Fecha:

Me quiero comprar una equipación de portero. La camiseta me cuesta 24€ los pantalones 18€ las medias 32€ y los guantes 21€ ¿Cuánto me costará la equipación de portero?

Si mi madre me da 200€ para pagar. ¿Cuánto dinero me sobrará?

Datos

Gráfico

.....			
.....			

Operación

Resultado.....

.....

Resultado.....

.....

Un granjero tiene dos cajas de pienso de 432 y de 513 kilos y lo quiere poner en sacos de 5 kilos. ¿Cuántos sacos tiene que rellenar?

Datos

.....
.....

Gráfico

Operación

	:		→	
--	---	--	---	--

Resultado.....

.....

Nombre: Fecha: